



فهرست جزوهی سؤالات ارزشیابی
ریاضی دوم ابتدایی

- ارزشیابی ۱ - فصل اول: عدد و شمارش، دسته‌های ده‌تایی و یکی ۳
- ارزشیابی ۲ - فصل اول: جمع و تفریق، شمارش چندتا چندتا ۵
- ارزشیابی ۳ - فصل دوم: جمع و تفریق ده‌تایی، جمع و تفریق ۷
- ارزشیابی ۴ - فصل دوم: جمع و تفریق دو عدد دو رقمی، جمع و تفریق دو عدد ۹
- ارزشیابی ۵ - فصل سوم: یادآوری شکل‌های هندسی، روابط بین شکل‌ها ۱۱
- ارزشیابی ۶ - فصل سوم: تقارن ۱۳
- ارزشیابی ۷ - ارزشیابی آذر ماه ۱۵
- ارزشیابی ۸ - فصل چهارم: معرفی طول، معرفی عددهای سه رقمی ۱۶
- ارزشیابی ۹ - فصل چهارم: عددهای سه رقمی تقریبی، آمادگی برای جمع و تفریق ۱۸
- ارزشیابی ۱۰ - ارزشیابی دی‌ماه ۲۰
- ارزشیابی ۱۱ - فصل پنجم: اندازه‌گیری طول، اندازه‌گیری دقیق‌تر ۲۱
- ارزشیابی ۱۲ - فصل پنجم: واحد سانتی‌متر، واحد میلی‌متر ۲۳
- ارزشیابی ۱۳ - فصل ششم: مقایسه اعداد، جمع و تفریق عددهای سه رقمی ۲۵
- ارزشیابی ۱۴ - فصل ششم: جمع در جدول ارزش مکانی، تفریق در جدول ارزش مکانی ۲۷
- ارزشیابی ۱۵ - ارزشیابی عیدانه ۲۹
- ارزشیابی ۱۶ - فصل هفتم: قسمتی از یک واحد نمایش کسرها ۳۱
- ارزشیابی ۱۷ - فصل هفتم: مفهوم احتمال، احتمال و کسر ۳۳
- ارزشیابی ۱۸ - فصل هشتم: سرشماری، نمودار ستونی ۳۵
- ارزشیابی ۱۹ - فصل هشتم: نمودار تصویری، انتخاب نمودار ۳۷
- ارزشیابی ۲۰ - ارزشیابی جامع نوبت دوم ۳۹
- پاسخنامه تشریحی ارزشیابی‌ها ۴۱

ارزشیابی ۲۱ - نمونه سؤالات خرداد ماه آخرین برگ

۴ گام تا آموزش تصویری



برای اسکن کد های کتاب فقط کافیسیت برنامه QR CODE SCANNER را بر روی تلفن همراه و یا تبلتتون نصب کنید؛
با باز کردن برنامه دوربین دستگاه شما فعال شده و باید آن را سمت کد مورد نظرتان بگیرید.



دانش آموز عزیز، اولین کتاب همراه با تکنولوژی QR CODE رو در دست داری! هر کدام از کتاب های منتشران دارای کد هایی به شکل بالا میباشد که با اسکن کردن آن میتوانید از ویدیو های آموزشی هر بخش استفاده کنید.



پس از اسکن کد مورد نظر، برنامه آدرسی در اختیارتون قرار میدهد که با وارد شدن به آن میتوانید بصورت رایگان از تماشای ویدیو های آموزشی و سرگرمی منتشران لذت ببرید!



بطور مثال :
اگر میخواهید ویدیوی آموزشی فصل دوم - قسمت اول را مشاهده کنید، دوربین را بر روی آن کد نگه داشته و صبر کنید.

نرم افزار QR Code Scanner برای ۲ سیستم عامل اندروید و iOS منتشر شده و شما می توانید با نصب آن از امکانات روز افزون ما استفاده کنید.



درسنامه‌ی ریاضی دوم ابتدایی



درسنامه فصل اول



درسنامه فصل دوم



درسنامه فصل سوم



درسنامه فصل چهارم



درسنامه فصل پنجم



درسنامه فصل ششم



درسنامه فصل هفتم




درسنامه فصل هشتم



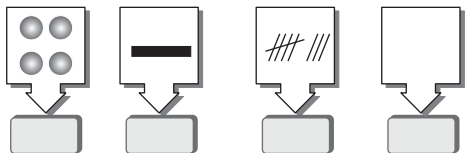
ارزشیابی

۱

فصل اول: عدد و شمارش، دسته‌های ده‌تایی و یکی



اهداف آموزشی: - یادآوری مفهوم عدد و شمارش - یادآوری خواندن ساعت - آشنایی با شکل‌های مختلف اعداد - یادآوری نوشتن اعداد به ترتیب - آشنایی با مهارت حدسیه‌سازی - یادآوری مقایسه‌ی اعداد - ایجاد دسته‌های ده‌تایی و یکی و نمایش عددی و حروفی اعداد - ایجاد اعداد دو رقمی با استفاده از رقم‌های مختلف - الگویابی عددی و هندسی - حل مسئله با استفاده از اشکال مختلف



۱- شکل‌های زیر را بشمارید و عدد آن را بنویسید.



۲- با توجه به تصویر به سؤالات پاسخ دهید.

الف) چند ستاره در شکل وجود دارد؟

ب) چند ماه در شکل وجود دارد؟ ج) روی هم چند ستاره و ماه وجود دارد؟

۳- با توجه به زمان‌های داده شده عقربه‌ها را در جای مناسب خود قرار دهید.

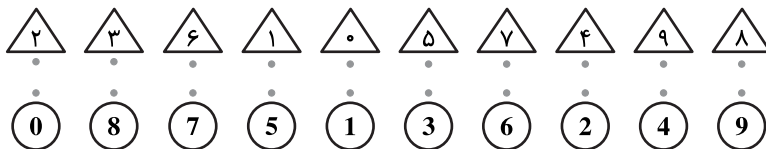


ساعت ۹



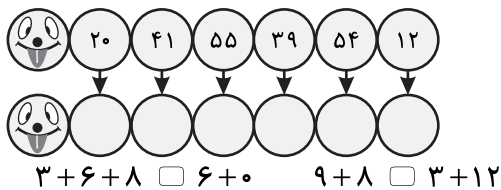
ساعت ۴

۴- اعداد مربوط به یکدیگر را با کشیدن خط به یکدیگر وصل کنید.



۵- یک عدد قبل از عددهای نوشته شده را بنویسید.


۶- در جاهای خالی علامت $<=>$ بگذارید.




$3+6+8$ $6+0$ $9+8$ $3+12$

۲ تا کمتر از 35 4 تا بیشتر از 29

۷- دو تصویر زیر را با یکدیگر مقایسه کنید.



تصویر شماره ۲



تصویر شماره ۱

الف) حدس بزنید کدام تصویر تعداد بیش‌تری ماهی دارد؟



ب) حالا ماهی‌ها را بشمارید چه تعداد ماهی در هر تصویر بود؟ در کنار تصویر بنویسید و در جای خالی علامت مناسب بگذارید. (ج) آیا حدس شما درست بود؟

۸- در جای خالی عدد مناسب بنویسید.



یکی	ده‌تایی

..... یکی و ده‌تایی

به رقم: به حروف:

۹- جاهای خالی را کامل کنید.

..... برابر است با ۳ یکی و ۴ ده‌تایی

۶۰ برابر است با ده‌تایی و یکی. برابر است با ۵ ده‌تایی و ۹ یکی.

۱۰- دور عددهایی که ده‌تایی آن‌ها بیش‌تر از ۵ و یکی آن‌ها کم‌تر از ۴ است، خط بکشید.

۸۶-۱۹-۹۰-۸۷-۳۲-۷۲-۹۸-۴۸-۶۷-۶۳

۱۱- جاهای خالی را کامل کنید.

سی و دو، سی و یک،،،،

.....، ۸۶، ۸۷،،،،

۱۲- با رقم‌های ۰ و ۴ هر چه قدر عدد دو رقمی که می‌توانید بنویسید. چرا عددهای بیش‌تری نتوانستی بسازی؟

۱۳- با کارت‌های روبه‌رو هر تعداد عدد دو رقمی که می‌توانید درست کنید و بنویسید.

۳ ۷

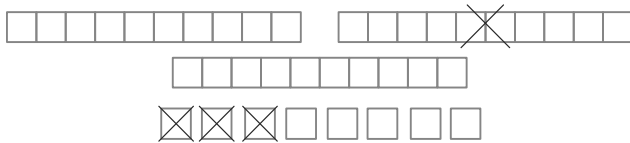
۱۴- یک عدد دو رقمی بنویسید که دهگان آن بزرگ‌ترین عدد یک رقمی و یکان آن ۳ تا کمتر از دهگانش باشد.

۱۵- الگوهای زیر را کامل کنید.



۲۶-۳۱-۳۶-.....-.....-.....-.....

۱۶- برای شکل روبه‌رو یک مسئله بنویسید.



۱۷- مادر علی دو کت برای او دوخت. اگر برای هر کت ۵ دکمه نیاز داشته باشد برای هر دو کت چند

دکمه باید تهیه کند؟ (با استفاده از شکل مناسب حل کنید).

ارزیابی آموزگار یا اولیاء:

<input type="checkbox"/> نیاز به تلاش بیشتری	<input type="checkbox"/> قابل قبول	<input type="checkbox"/> خوب	<input type="checkbox"/> خیلی خوب